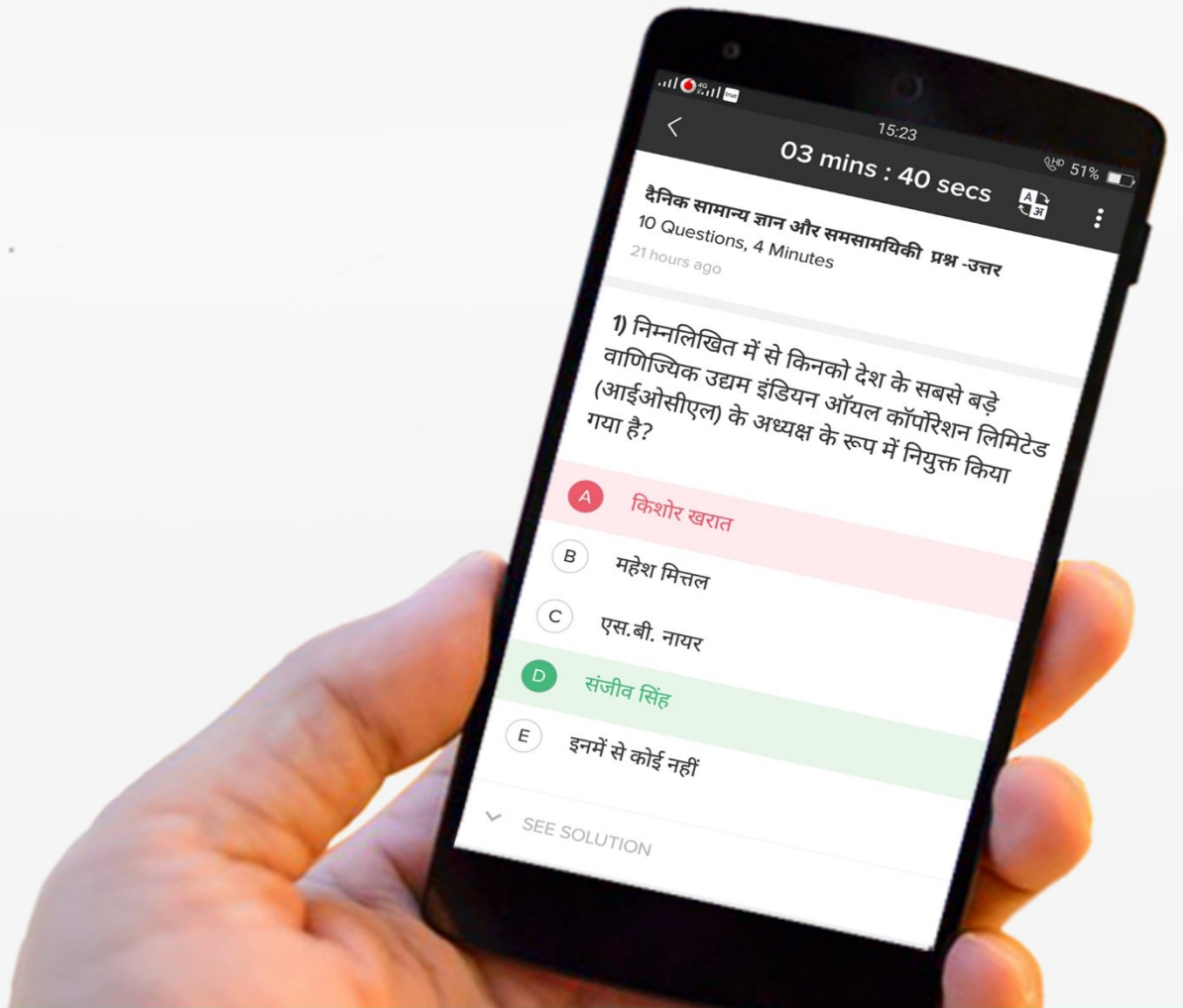


gradeup

SSC स्टेनोग्राफर 2016 के पिछले वर्ष के प्रश्न पत्र

31.07.2016 (सुबह की पारी)



- निर्देश (1-9): दिए गए विकल्पों में से संबंधित अक्षर/संख्या समूह का चयन करें।
1. भविष्यवाणी: भविष्यः अफसोस?
A. भूतकाल B. वर्तमान
C. पाप D. समय
 2. दुश्मन: शत्रुः विपत्ति: ?
A. मित्र B. गतिशील
C. प्रेम D. कठिनाई
 3. पक्षी: कृमि :: ?
A. घोड़ा: अस्तबल B. जाल: पनीर
C. शेर: गुफा D. बिल्ली: चूहा
 4. MAD: JXA :: RUN: ?
A. OSQ B. PRJ
C. UXQ D. QRK
 5. BEGK: ADFJ :: PSVY: ?
A. ORUX B. FAUX
C. LQUT D. LOQT
 6. AZBY: CXDW :: EVFU: ?
A. GHTS B. TGSH
C. GTHS D. GSTH
 7. 42 : 20 :: 64 ?
A. 31 B. 32
C. 33 D. 34
 8. 6 : 18 :: 4 : ?
A. 6 B. 8
C. 10 D. 14
 9. 8 : 24 :: ? : 32
A. 5 B. 6
C. 10 D. 8
 10. निर्देश: दिए गए विकल्पों में से अलग अक्षर/संख्या समूह का चयन करें।
A. थका हुआ B. सुस्त
C. धीमा D. देर से
 11. निर्देश: दिए गए विकल्पों में से अलग अक्षर/संख्या समूह का चयन करें।
A. उत्तेजना B. विभ्रान्ति
C. व्याकुलता D. अभाव
 12. निर्देश: दिए गए विकल्पों में से अलग अक्षर/संख्या समूह का चयन करें।
A. पेन: स्टेशनरी B. पृथ्वी: चंद्रमा
C. सूर्य: तारा D. पेंटर: कलाकार
 13. निर्देश: दिए गए विकल्पों में से अलग अक्षर/संख्या समूह का चयन करें।
A. EDC B. MLK
C. NPR D. XWV
 14. निर्देश: दिए गए विकल्पों में से अलग अक्षर/संख्या समूह का चयन करें।
A. MOQS B. ZADE
C. CEGI D. SUWY
 15. निर्देश: दिए गए विकल्पों में से अलग अक्षर/संख्या समूह का चयन करें।
A. NILE B. LIEN
C. LINE D. LEAN
 16. निर्देश: दिए गए विकल्पों में से अलग अक्षर/संख्या समूह का चयन करें।
A. 78 B. 91
C. 84 D. 26
 17. निर्देश: दिए गए विकल्पों में से अलग अक्षर/संख्या समूह का चयन करें।
A. 48 B. 96
C. 59 D. 12
 18. निर्देश: दिए गए विकल्पों में से अलग अक्षर/संख्या समूह का चयन करें।
A. 16 - 32 B. 19- 38
C. 21- 40 D. 23- 46
 19. दी गई प्रतिक्रियाओं में से कौन सी पदों के आरोही क्रम में एक अर्थपूर्ण क्रम होगा?
1) परिवीक्षा
2) साक्षात्कार
3) चयन
4) नियुक्ति
5) विज्ञापन
A. 5, 2, 3, 4, 1 B. 5, 3, 2, 1, 4
C. 5, 4, 2, 3, 1 D. 4, 5, 1, 2, 3
 20. एक सार्थक अनुक्रम में दिए गए शब्दों को व्यवस्थित करें:
1) प्रिंटर
2) प्रकाशक
3) लेखक
4) संपादक
5) विक्रेता
A. 2, 3, 4, 1, 5 B. 3, 4, 1, 2, 5
C. 3, 4, 1, 2, 5 D. 2, 4, 3, 5, 1
 21. इन शब्दों में से कौन सा चौथा शब्द होगा अगर अंग्रेजी शब्दकोश के अनुसार व्यवस्थित करें।
A. Rain B. Reef
C. Ready D. Rainbow

निर्देश (22-26): दिए गये प्रश्न में एक श्रृंखला दी गई है, जिसमें एक पद छूटा हुआ है। दिए गए विकल्पों में सही विकल्प का चयन करें जो कि श्रृंखला को पूरा करेगा।

22. ACE, GIK, MOQ, ?
A. MU B. SUW
C. UVW D. STV
23. LMnP, PQrT, TUvX, ?
A. VWnP B. PRsT
C. UVwY D. XYzB
24. 826, 480, 346, 134, ?
A. 83 B. 61
C. 212 D. 126
25. 78, 155, 309, ?, 1233
A. 625 B. 1230
C. 1000 D. 126
26. 5, 8, 16, 19, 38, 41, ?
A. 44 B. 80
C. 40 D. 82
27. कौन-सा अक्षर समूह क्रमानुसार रिक्त स्थानों को भर कर श्रृंखला को पूरा करेगा।
h_t_l_tt_lht_m_htt_l
A. mmhtltm B. hmmttlm
C. tmhmtlm D. lmtmhmt
28. A और B एक विवाहित जोड़ा है। C और D भाई हैं। C, A का भाई है। D, B से कैसे संबंधित है?
A. बहनोई B. भाई
C. जीजाजी D. चचेरा भाई
29. अमित और अनिल की वर्तमान उम्र 32 वर्ष है। अगर अमित, अनिल की तुलना में 6 वर्ष बड़ा है, तो अनिल की वर्तमान उम्र क्या है?
A. 29 वर्ष B. 38 वर्ष
C. 26 वर्ष D. 19 वर्ष
30. दिए गए विकल्पों में से, उस शब्द का चयन करें जिसे दिए गए शब्द के अक्षरों का उपयोग करके नहीं बनाया जा सकता है।
JURISPRUDENCE
A. PREJUDICE B. PRINCE
C. PRUNE D. PRESIDENT
31. दिए गए विकल्पों में से, उस शब्द का चयन करें जिसे दिए गए शब्द के अक्षरों का उपयोग करके बनाया जा सकता है।
MONUMENT
A. TENENT B. TENT
C. MOUNT D. MOVEMENT

32. एक खास कोड में, 'DIAGRAM' को AFXDOXJ के रूप में लिखा जाता है। तब 'PICTURE' को कोड में कैसे लिखा जा सकता है?
A. NGARSPC B. MGAQRPB
C. NFYQROC D. MFZQROB
33. यदि ABLE को 5324 तथा BINGO को 36178 लिखा जाता है, तब BANGLE को लिखा जा सकता है-
A. 351724 B. 356724
C. 321846 D. 362417
34. यदि '+' का अर्थ '÷'; 'x' का अर्थ '+'; '-' का अर्थ 'x' तथा '÷' अर्थ '-', तो निम्न में से कौन सी समीकरण सही है?
A. $33-4\div 5 \times 6+2=130$
B. $33 \times 4-5+6\div 2=26$
C. $33\div 4 \times 5+6-2=30$
D. $33-4+5\div 6 \times 2=24$
35. सोनू और उसका दोस्त राहुल खरीदारी के लिए गए। सोनू के पास 500 रुपये थे जबकि राहुल के पास 240 रुपये थे। सोनू ने राहुल से दोगुना खरीदारी की। अब सोनू के पास राहुल के पास बचे धन से तीन गुना ज्यादा धन है। सोनू ने कितना पैसा खर्च किया?
A. 220 रुपये B. 60 रुपये
C. 440 रुपये D. 120 रुपये
36. निम्न में से कौन सा संकेतों का समूह दी हुई समीकरण सही कर देगा?
 $5 + 3 \times 8 - 12 \div 4 = 3$
A. + और - B. - और ÷
C. + और x D. + और ÷
37. कुछ समीकरणों को एक निश्चित प्रणाली के आधार पर हल किया गया है। उस आधार पर समेकित समीकरण के लिए सही उत्तर खोजें
यदि $29 \times 13 = 14$, $76 \times 26 = 34$, then $64 \times 14 = ?$
A. 64 B. 39
C. 32 D. 26
38. $121 \ 100 \ ? \ 169$
 $4 \ 8 \ 9 \ 7$
 $7 \ 2 \ 5 \ 6$
A. 81 B. 114
C. 196 D. 214
39. $1 \ 4 \ 9 \ 16$
 $1 \ 2 \ 3 \ 4$
 $2 \ 4 \ 6 \ ?$
A. 8 B. 7
C. 5 D. 4

40. एक लड़की अपने घर से निकलती है वह पहले 30 मिनट उत्तर-पश्चिम की दिशा में और फिर दक्षिण-पश्चिम दिशा में 30 मीटर की दूरी चलती है। इसके बाद, वह दक्षिण-पूर्व दिशा में 30 मीटर की दूरी चलती है। अंत में, वह अपने घर की ओर मुड़ती है वह किस दिशा में चल रही है?

- A. उत्तर- पूर्व B. उत्तर-पश्चिम
C. दक्षिण-पूर्व D. दक्षिण-पश्चिम

41. O बिंदु से शुरू करते हुए, महेश दक्षिण में 5 किमी की दूरी तय करता है, फिर अपने दाहिनी ओर मुड़ता है और 3 किमी चलता है। वहां से वह फिर से दाहिनी ओर जाता है और 5 किमी दूर तय करता है। वह फिर अपने बाएं मुड़ता है और 5 किमी दूर तय करता है। वह प्रारंभिक बिंदु से कितनी दूर है

- A. 15 किमी B. 13 किमी
C. 8 किमी D. 6 किमी

निर्देश (42-43): दिये गये कथन चार तर्कों का अनुसरण करते हैं। आपको कथन को सत्य मानते हुए अपितु सामान्यतः ज्ञात तथ्यों में भिन्नताएं प्रदर्शित होती हों। आपको तय करना है कि कौन सा निष्कर्ष दिए गए कथन से निश्चित रूप से निकला जा सकता है।

42. कथन:

- 1) सभी सेब संतरे हैं।
2) कुछ संतरे पपीता हैं।

निष्कर्ष:

- I. कुछ सेब पपीते हैं
II. कुछ पपीते सेब हैं
A. केवल तर्क I अनुसरणीय है।
B. केवल तर्क II अनुसरणीय है।
C. तर्क I, II अनुसरणीय है।
D. न तो तर्क I और II अनुसरणीय है।

43. कथन:

- 1) सभी हवाई जहाज ट्रेनें हैं।
2) कुछ ट्रेनें कुर्सियां हैं

निष्कर्ष:

- I. कुछ हवाई जहाज कुर्सियाँ हैं
II. कुछ कुर्सियाँ हवाई जहाज हैं
III. कुछ कुर्सियां ट्रेन हैं
IV. कुछ ट्रेनें हवाई जहाज हैं

A. कोई अनुसरणीय नहीं है।

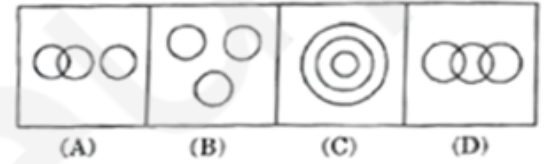
- B. केवल तर्क I और II अनुसरणीय है।
C. केवल तर्क II और III अनुसरणीय है।
D. केवल तर्क III और IV अनुसरणीय है।

44. निम्नलिखित चित्र में कितने त्रिकोण हैं?



- A. 16 B. 18
C. 20 D. 22

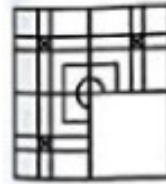
45. निम्न में से कौन सा चित्र फल, लाल और शर्ट के लिए उचित संबंध देता है?



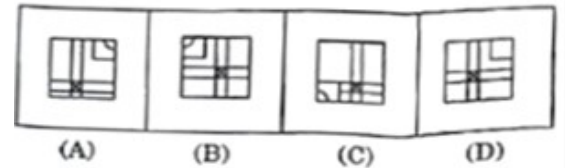
- A. आकृति (A)
B. आकृति (B)
C. आकृति (C)
D. आकृति (D)

46. निम्न में से, कौन सी उत्तर आकृति, प्रश्न आकृति में पैटर्न को पूरा करेगी?

प्रश्न आकृति:



उत्तर आकृति:



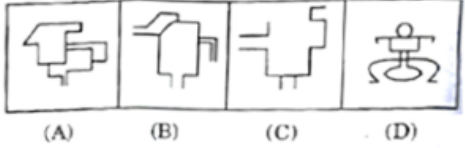
- A. आकृति (A)
B. आकृति (B)
C. आकृति (C)
D. आकृति (D)

47. दी गयी उत्तर आकृतियों में स उस आकृति का चयन करें जिसमें प्रश्न आकृति: छिपी हुई / एम्बेडेड है।

प्रश्न आकृति:



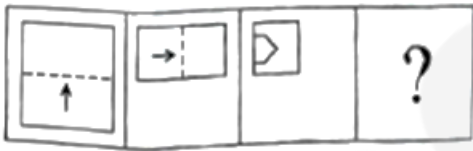
उत्तर आकृति:



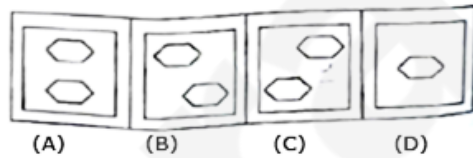
- A. आकृति (A) B. आकृति (B)
C. आकृति (C) D. आकृति (D)

48. कागज के एक टुकड़े को नीचे दिखाये गये प्रश्न आकृति के अनुरूप मुड़ा और कटा जाता है। दिए गए उत्तर आकृतिओं में से कौन सी आकृति दिखाई देगी जब इसे खोला जाएगा?

प्रश्न आकृति:



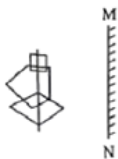
उत्तर आकृति:



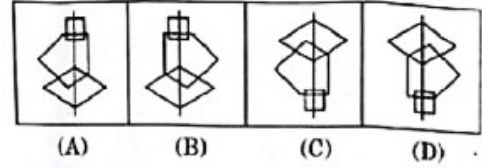
- A. आकृति (A)
B. आकृति (B)
C. आकृति (C)
D. आकृति (D)

49. यदि एक दर्पण लाइन MN पर रखा गया है, तो कौन सी उत्तर आकृति वास्तव में दी गई प्रश्न आकृति की दर्पण छवि है?

प्रश्न आकृति:



उत्तर आकृति:



- A. आकृति (A) B. आकृति (B)
C. आकृति (C) D. आकृति (D)

50. एक शब्द, संख्या के केवल एक समूह को प्रतिनिधित्व करने वाले विकल्पों में से किसी एक के रूप में दी जाती है। विकल्प में दिए गए संख्या समूह नीचे दिए गए दो मैट्रिक्स में के रूप में अक्षर के दो वर्गों का प्रतिनिधित्व करती हैं। पहली मैट्रिक्स के स्तंभों और पंक्तियों को 0 से 4 से गिना जाता है और द्वितीय मैट्रिक्स को 5 से 9 तक गिना जाता है इन मैट्रिक्सों में से एक अक्षर को अगले अपनी पंक्ति से और द्वितीय मैट्रिक्स के कॉलम केद्वारा प्रदर्शित किया जा सकता है। जैसे अक्षर 'O' 01, 33, आदि और 'Q' 56, 68 आदि द्वारा प्रदर्शित किया जाता है। इसी प्रकार आपको शब्द 'METAL' के अक्षर समूह की पहचान करना है।

Matrix I					Matrix II							
	0	1	2	3	4		5	6	7	8	9	
0	M	O	R	A	L		5	Q	U	I	E	T
1	O	R	A	L	M		6	U	I	E	T	Q
2	R	A	L	M	O		7	I	E	T	Q	U
3	A	L	M	O	R		8	E	T	Q	U	I
4	L	M	O	R	A		9	T	Q	U	I	E

- A. 23, 67, 96, 40, 44
B. 23, 76, 95, 40, 44
C. 32, 76, 95, 44, 04
D. 32, 76, 44, 95, 04

51. मुद्रास्फीति को नियंत्रित करने के लिए आपूर्ति साइड उपाय है
A. क्रेडिट नियंत्रण
B. सार्वजनिक व्यय कम करना
C. सार्वजनिक वितरण प्रणाली के माध्यम से मूल्य नियंत्रण
D. तरलता को मापने के लिए उच्च कराधान

52. कराधान के योग्यता सिद्धांत के द्वारा दिया जाता है
A. जे एस चक्की B. एडम स्मिथ
C. एडवेवर्थ D. जोन रॉबिन्सन

53. 'विश्व आर्थिक रिपोर्ट' के द्वारा प्रकाशित किया गया है
A. अंकटाड B. विश्व बैंक
C. यूएनडीपी D. आईएमएफ
54. 'द्रुत स्फीति' को के रूप में भी जाना जाता है
A. मन्द मुद्रास्फीति B. धीमी मुद्रास्फीति
C. चल मुद्रास्फीति D. अतिस्फीति
55. औसत निर्धारित लागत वक्र है
A. नीचे ढलान B. ऊपर की ओर ढलान
C. 'U' का आकार D. 'V' का आकार
56. भारतीय संविधान के अनुच्छेद 368 में इनका संबंध है
A. संशोधन प्रक्रिया
B. आपातकालीन प्रावधान
C. प्राथमिक शिक्षा का अधिकार
D. सूचना का अधिकार
57. निम्नलिखित में से किसने एक संविधान सभा के लिए प्रथम 1936 में सुझाव दिया था?
A. एम.एन. राँय B. नेहरु
C. नेहरु D. जे पी नारायण
58. पॉल एप्पल के अनुसार अच्छे प्रशासकों की गुणवत्ता है
A. आत्मविश्वास B. खुफिया
C. अभिप्राय D. वफादारी
59. प्लेटो के निम्नलिखित कार्यों में से कौन सा मुख्य रूप से न्याय ग्रंथ है?
A. माफी B. फाडो
C. स्टेटमैन D. द रिपब्लिक
60. सरोजनी नायडू के द्वारा नामित 'हिंदू-मुस्लिम एकता का राजदूत' के रूप में कौन जाना जाता है?
A. मौलाना आजाद B. मोहम्मद अली जिन्ना
C. अब्दुल गफर खान D. शौकत अली
61. यादव राजाओं की राजधानी थी
A. कृष्णगिरी B. देवगिरी
C. वाराणसी D. कांचीपुरम
62. बास्टिल के पतन के साथ जुड़ा हुआ है
A. यूनानी युद्ध की स्वतंत्रता
B. रूसी नवंबर 1917 की क्रांति
C. फ्रेंच क्रांति 1789
D. अमेरिकी स्वतंत्रता युद्ध
63. भारत में कौन से गवर्नर जनरल को स्थानीय 'स्वशासन का पिता' कहा जाता है?
A. लॉर्ड रिपन B. लॉर्ड वेलेस्ले
C. लॉर्ड कैनिंग D. लॉर्ड विलियम बेंटिंक
64. 'द तीन एम्प्रायर लीग', 1873 को के रूप में भी जाना जाता था
A. दोहरी एलायंस
B. तीन सम्राटों का संघ संधि
C. ट्रिपल एलायंस
D. पुनर्बीमा संधि
65. पंडितराज जगन्नाथ निम्नलिखित शासकों में से किसके कवि विजेता थे?
A. हुमायूं B. अकबर
C. शाहजहां D. औरंगजेब
66. भारत में ज्वालामुखी विस्फोट से निम्नलिखित में से क्या बनाता है।
A. हिमालय B. डेक्कन पठार
C. लक्षद्वीप द्वीप समूह D. पश्चिमी मैट
67. स्थलज में पाया जाते हैं
A. महाद्वीपीय शेल्फ और ढलान
B. गभीर सागरी मैदान
C. महासागर की खाई
D. दरार घाटी
68. निम्न में से कौन सा अंटार्कटिका में एक मात्र ज्वालामुखी शिखर है?
A. माउंट कुक B. माउंट ब्लैंक
C. माउंट एरबस D. माउंट एल्ब्रूस
69. 'स्कूल ऑफ पॉसिबिलिज्म' की स्थापना किसने की थी?
A. रेटेल B. ब्रंच
C. ला ब्लैश D. हम्बोल्ट
70. लसीमीटर अनुमान लगाने में मदद करता है
A. पवन दिशा B. बाष्पीभवन
C. सापेक्ष आर्द्रता D. भाप का दबाव
71. यौगिक जिसे ठीक से काम करने के लिए एंजाइम की आवश्यकता है
A. बफर्स B. स्टेरॉयड
C. विटामिन D. भारी धातुएं
72. भारी पानी है
A. ड्यूटेरियम ऑक्साइड B. ड्यूटेरियम
C. वर्षा जल D. ट्राइटियम ऑक्साइड

73. निम्न में से किसे 'तालाब का रेशम' के नाम से जाना जाता है?
A. अलुश्रक्सिस B. स्पिरोग्यरा
C. रजोपस D. खमीर
74. 'पुंस्तनवृद्धि' है
A. पुरुषों में स्तनों का विकास
B. पुरुषों के कानों पर बालों का विकास
C. महिलाओं में ऊंचाई में वृद्धि
D. महिलाओं में एक अतिरिक्त उंगली का विकास
75. यूरिया की सबसे अधिक सांद्रता में पाया जाती है
A. गुर्दे की धमनी
B. यकृत निवाहिका धमनी
C. पृष्ठ महाधमनी
D. यकृत धमनी
76. श्वास लेने के लिए गहरे समुद्र में गोताखोरों द्वारा इस्तेमाल की जाने वाली हवा में नाइट्रोजन के लिए अक्रिय गैस का प्रयोग किया जाता है
A. हीलियम B. क्सीजन
C. क्रिप्टन D. आर्गन
77. 'क्रायोजेनिक्स' का अध्ययन है
A. कम तापमान B. उच्च तापमान
C. सुपरकंडक्टर D. ईंधन का उत्पादन
78. बिजली से क्षति को रोकने के लिए, लम्बी संरचनाओं पर बिजली सुचालकों का उपयोग किया जाता है। बिजली के सुचालक
A. तेज चालित किनारों के साथ तांबे की तरह एक अच्छा कंडक्टर से बना होना चाहिए
B. सुचालक का बनाया जाना चाहिए, लेकिन किसी भी आकार के हो सकते हैं
C. ऊर्ध्वाधर छड़ी के रूप में होना चाहिए
D. किसी भी आकार का हो सकता है
79. इन्फ्रारेड विकिरणों का पता लगाया जाता है
A. स्पेक्ट्रोमीटर B. पाइरोमीटर
C. नैनोमीटर D. प्रकाशक
80. रेडियोधर्मी सामग्री द्वारा उत्सर्जित बीटा किरणें हैं
A. विद्युत चुम्बकीय विकिरण
B. नाभिक के चारों ओर घूमने वाले इलेक्ट्रॉन
C. न्यूक्लियस द्वारा उत्सर्जित आवेशित कण
D. तटस्थ कण
81. निम्न में से कौन सा कंप्यूटर यादें गैर-वाष्पशील है?
A. रैम B. डी-रैम
C. एस रैम D. रोम
82. वर्तमान दिन में कंप्यूटिंग में, कौन सा कोड का उपयोग किया जाता है और दुनिया भर में स्वीकार किया जाता है?
A. आईएससीआईआई B. एएससीआईआई
C. होलीरिथ कोड D. ईबीसीडीआईसी
83. निम्नलिखित में से कौन सा जलीय घोल में सबसे मजबूत क्षार है?
A. इथाइलैमाइन B. डाइथाइलैमाइन
C. ट्राइथिलैमाइन D. अमोनिया
84. निम्नलिखित में से कौन सा कृत्रिम स्वीटनर नहीं है?
A. एस्पार्टेम B. फर्कटोज
C. सक्किरीन D. सुक्रोलोज
85. क्षारकता वाला एक एसिड है
A. फॉस्फोरिक एसिड
B. सोडियम डाइहाइड्रोजन फॉस्फेट
C. डिसोडियम हाइड्रोजन फॉस्फेट
D. सोडियम फॉस्फेट
86. निम्न में से कौन सा वनस्पति तेल पेंट के निर्माण में उपयोग किया जाता है?
A. कपास बीड़ तेल B. पाम तेल
C. सूरजमुखी तेल D. अलसी तेल
87. एसिड वर्षा पर्यावरण के प्रदूषण के कारण होता है
A. कार्बन डाइऑक्साइड और नाइट्रोजन
B. कार्बन मोनोऑक्साइड और कार्बन डाइऑक्साइड
C. ओजोन और कार्बन डाइऑक्साइड
D. नाइट्रस ऑक्साइड और सल्फर डाइऑक्साइड
88. निम्न में से कौन सा गैस वायु प्रदूषक नहीं है?
A. सल्फर के ऑक्साइड
B. नाइट्रोजन के ऑक्साइड
C. हाइड्रोकार्बन
D. धुआँ
89. निम्नलिखित में से किसे 'एक हजार झीलों की भूमि' कहा जाता है?
A. फिनलैंड B. स्वीडन
C. ग्रीनलैंड D. यू.एस.ए.

90. यह पेड़ जिसे 'ग्रीन गोल्ड' के रूप में जाना जाता है, लेकिन यह एक पारिस्थितिकीय आपदा है
- A. नीलगिरी B. बान्यन
C. पीपल D. इनमें से कोई नहीं
91. गाम्पानी अभयारण्य में स्थित है
- A. जूनागढ़, गुजरात B. दिफु, असम
C. गंगटोक, सिक्किम D. कोहिमा, नागालैंड
92. वर्ष 2015 के लिए अभिनव विज्ञान और टेक्नो के लिए प्रतिष्ठित गुजर मल पुरस्कार किसने जीता?
- A. अनुतिन्दु कृष्ण B. प्रो मुस्तासीर बर्मा
C. जीएम रेड्डी D. विवेककानंद केन
93. 'एंटोमोलॉजी' वह विज्ञान है जिसमें का अध्ययन करता है
- A. कीड़े B. मनुष्य के व्यवहार
C. चट्टानों का निर्माण D. इनमें से कोई नहीं
94. 'बर' अपनी मुद्रा के रूप में कौन सा देश उपयोग करता है?
- A. एस्टोनिया B. इथियोपिया
C. टोगो D. इरिट्रिया
95. कितने नोबल पुरस्कार पुरस्कार हर साल सम्मानित किया जाते हैं?
- A. 6 B. 5
C. 7 D. 4
96. वेलिंग्टन ट्राफी साथ जुड़ा हुआ है
- A. ब्रिज B. रोडिंग
C. शतरंज D. हॉकी
97. विश्व आत्मकेंद्रित जागरूकता दिवस पर मनाया जाता है
- A. 1 अप्रैल B. 2 अप्रैल
C. 3 अप्रैल D. 5 अप्रैल
98. 'वर्ल्ड वाइड वेब' का आविष्कार किसने किया?
- A. चार्ल्स बब्बेज
B. टिम बर्नर्स-ली
C. मार्टिन कूपर
D. आर. सैमुअल टॉमलिनसन
99. उपन्यास 'When the River Steps' के द्वारा लिखा गया है
- A. ईस्टररीन कियर B. अनुराधा रॉय
C. विक्रम सेठ D. शुभा डे

100. विश्व की पहली संगठित मोटर दौड़ किस देश में हुई थी?
- A. फ्रांस B. जर्मनी
C. यू.एस.ए D. पुर्तगाल

Direction: In the following question, some parts of the sentences have errors and some are correct. Find out which part of a sentence has an error. If a sentence is free from error, mark 'No Error' as your answer

101. I want to exchange (A)/ my Maruti (B)/ from a Santro(C)/
- A. Sentence (A) B. Sentence (B)
C. Sentence (C) D. No Error
102. There were extensive (A)/ lawn in front(B)/ of the bungalow. (C)/
- A. Sentence (A) B. Sentence (B)
C. Sentence (C) D. No Error
103. Wise men follow Nobel (A)/ ideas whereas fools(B)/ disregard them. (C)/
- A. Sentence (A) B. Sentence (B)
C. Sentence (C) D. No Error
104. The naval officers(A)/ successfully fought the pirates (B)/who had looted and plundered for many years.(C) /
- A. Sentence (A) B. Sentence (B)
C. Sentence (C) D. No Error
105. He acted not (A)/ as per my advice (B)/ but somebody else (C)/
- A. Sentence (A) B. Sentence (B)
C. Sentence (C) D. No Error
106. The chairs in the (A)/ room are in a (A)/ state disarray. (C)/
- A. Sentence (A) B. Sentence (B)
C. Sentence (C) D. No Error
107. Ashoka the Great was (A)/ regarded one of the greatest emperors (B)/the world has ever produced. (C)/
- A. Sentence (A) B. Sentence (B)
C. Sentence (C) D. No Error
108. Will you please (A)/ give me little milk (B)/ for my cat?(C)/
- A. Sentence (A) B. Sentence (B)
C. Sentence (C) D. No Error
109. The light bulbs (A)/ on the hall (B)/ need to be changed (C)/
- A. Sentence (A) B. Sentence (B)
C. Sentence (C) D. No Error
110. A recent survey indicates (A)/ that the number of drug addicts(B) /grew day by day. (C)/
- A. Sentence (A) B. Sentence (B)
C. Sentence (C) D. No Error

Direction: In the following question sentences are given with blanks to be filled in with an appropriate word(s). Four alternatives are suggested for each question. Choose the most appropriate alternative out of the four and mark it as your answer.

- 111. Do not look _____ Women.
A. up B. down
C. right D. left
- 112. I _____ him on this Point.
A. agree to B. agreeing with
C. agreed with D. admitted to
- 113. The stranger _____ in through the window last night.
A. creeps B. creep
C. crept D. creeping
- 114. They _____ living here since 2000
A. are still B. have been
C. are D. will be
- 115. The specialist _____ you want to meet is available only on Thursdays,
A. which B. whom
C. whose D. who

Direction: In the following question, out of the Air alternatives choose the one which best expresses the meaning of the given word and mark it as your Answer.

- 116. Hesitate
A. Resolve B. Determine
C. Pause D. Settle
- 117. Consciousness
A. Vision B. Understanding
C. Nothingness D. Awareness
- 118. Caliber
A. Career B. Capacity
C. Calmness D. Crowd
- 119. Persuade
A. peter B. Hinder
C. Coax D. Restrain
- 120. Wander
A. Race B. Wrestle
C. Gallop D. Roam

Direction: In the following question, choose the word opposite in meaning to the given word and mark it as your Answer.

- 121. Virtue
A. Fool B. Vice
C. Untrue D. Defeat
- 122. Evasive
A. Categorical B. Indefinite
C. Explicit D. Unclear
- 123. Relentless
A. Gentle B. Sensitive
C. Yielding D. Kind

- 124. Hostility
A. Enmity B. Friendship
C. Partnership D. Relationship
- 125. Assent
A. separation B. Confusion
C. Dissent D. Self-interest

Direction: In the following question, four alternatives are given for the Idiom I Phrase underlined. Choose the alternative which best expresses the meaning of the Idiom 'Phrase and mark it as your Answer.

- 126. The teacher was taken aback by the student's remark.
A. annoyed B. surprised
C. hurt D. pleased
- 127. The lawyer insisted on having the contract in black and white.
A. in writing B. orally
C. figuratively D. obliquely
- 128. Our parents allowed us to watch films once in a blue moon.
A. everywhere B. rarely
C. secretly D. forever
- 129. Hold your tongue, my lad! I'll deal with you later.
A. Stick out the tongue
B. Be silent
C. Cool the tongue
D. Gargle
- 130. If you read his letter between the lines, you will find that he has no faith in his colleague's honesty.
A. strain your eyes
B. read in secret
C. find out the inner meaning
D. read an untidy letter

Direction: In the following question, the first and the last parts of the sentence/passage are numbered 1 and 6. The red of the sentence I passage is split into four parts and named P, Q, R and S. These four parts are not given in their proper order. Read the sentence I passage and find out which of the four combinations is correct.

- 131. 1) My grandmother was an old woman.
P. But that was hard to believe.
Q. And she even had a husband.
R. People said that she had once been young and pretty.
S. She had been like this for the twenty years that I had known her.
6) She often told us of the games she used to play as a child.
A. SRQP B. QPSR
C. RSPQ D. RPQS

132. 1) it is the twilight hour.
P. The sound breaks the still silence me.
Q. I turn round and see her seated on rock.
E. I hear more bells behind me.
S. The temple bell rings in the distance.
6) Her eyes sparkle like the anklets on swinging feet.
A. RSQP B. SPRQ
C. SQPR D. RQSP
133. 1) Use bright, cheerful, favorable words and phrases to describe other people Make it
P. for all your friends and associates.
Q. Be extremely careful
R. a rule to have a big, positive word
S. to avoid
6) the petty cut-him-down language.
A. PQRS B. RSPQ
C. RPQS D. QRPS
134. 1) An officer in Andhra Pradesh
P. found that the tribals put
Q. materials in turbid water
R. who was in charge of tribal development
S. certain gums and wood
6) to make the water clear.
A. RSPQ B. PSRQ
C. PQSR D. RPSQ
135. 1) Along with the orthodox Hindu's
P. and in the deity,
Q. Raghupati has his Brahmin's pride
R. faith in the scriptures
S. because he is the
6) lord of the temple.
A. SPQR B. RPQS
C. RQPS D. SQPR
- Direction:** In the following question, a sentence has been given in Active I Passive Voice. Out of the four-alternative suggested, select the one which best express the same sentence in Passive I Active Voice and mark it as your answer.
136. James Cameron directed the Titanic.
A. The Titanic has been directed by James Cameron.
B. The Titanic eons directed by James Cameron.
C. James Cameron bad directed the Titanic.
D. James Cameron had been directing the Titanic.
137. Mr. Dutta teaches us English
A. Engli,511 is taught to us by Mr. Duitts
B. We are being taught English by Mr. Dutta.
C. By Mr. Dutta we are taught English.
D. We have been taught English by Mr. Dutta.
138. Has the postman not delivered the letter?
A. Has the letter boon delivered by the postman?
B. Has the letter not baen delivered by the postman?
C. Is the letter delivered by the postman?
D. The postman hasn't delivered the letter.
139. John is building a new cupboard.
A. John has been building a new cupboard.
B. A new cupboard is being built by John.
C. A new cupboard is been built by John.
D. John's new cupboard is being built.
140. Someone will pay you next Monday.
A. You would be paid next Monday.
B. Someone win be paying you next Monday.
C. You will be paid next Monday.
D. Someone is going to pay Monday.
141. Drinking was ruining his life gradually.
A. the life was being ruined gradually drinking.
B. Rig life is ruined by gradual drinking.
C. Gradually, his life is ruined because of drinking problems.
D. Drinking problems caused the gradual ruin of his life.
142. A smell epitaph had been laid out by them in his memory.
A. They laid out a mall epitaph.
B. They had laid out a small epitaph in his memory.
C. They were laying out, in his memory, a small epitaph.
D. They lay out a small epitaph in his memory.
143. The nurse is giving food to the sick boy.
A. The sick buy is given food by the nurse.
B. The sick boy gets fowl from the nurse.
C. The sick boy is being given food by the nurse.
D. Food is given to the sick boy by the nurse.
144. Our parents have taught us to behave properly.
A. We have been taught to behave properly by our parents.
B. We were taught how not to behave properly how to behave
C. Our parents taught us how to behave properly
D. Our parents have been teaching us how to behave properly.

145. Why did your father refuse such an honorable job?
A. why was such an honorable job denied by your father?
B. why does your father refused such an I honorable job?
C. why is such teachers honorable job refused by your father?
D. why was such an honorable job reused by your father?

Direction: In the following question, a part of the sentence is underlined. Below are given alternatives to the underlined part which may improve the sentence. Choose the correct alternative. In case no improvement is required, choose "No Improvement" option.

146. He is entitled to a reward for honesty.
A. titled
B. entitle to
C. entitled
D. No improvement
147. The sight chosen for the school building is good.
A. site
B. eye-sight
C. side
D. No improvement
148. The matter must be considered in every point of view.
A. from every
B. at every
C. on every
D. No improvement
149. The poor villagers have waited in the bitter cold for more than two hours now.
A. has been waiting B. had waited
C. have been waiting D. No improvement
150. You must accustom yourself with new ideas.
A. accustomed with
B. accustom to
C. accustom yourself to
D. No improvement
151. Will you lend me few rupees in this hour of need?
A. borrow me a few rupees
B. lend me any rupees
C. lend me a few rupees
D. No improvement
152. The car with a burst tyre halted swiftly.
A. stopped quick
B. stopped fastly
C. jolted to a halt
D. No improvement

153. Many incidents of the last month unimportant when viewed in perception.
A. prospective
B. perceptive
C. perspective
D. No improvement
154. The youths jostled their way in the crowd.
A. over
B. through
C. among
D. No improvement
155. What is wrong with the argument is even if the two premises are true, the conclusion isn't necessarily true.
A. the conclusion will be true
B. the conclusion is false
C. the conclusions aren't necessarily true
D. No improvement

Direction: In the following question, a sentence has been given in Direct/ indirect. Out of the four alternatives suggested, select the one which best expresses the same sentence in Indirect /Direct and mark your answer.

156. I said to him, "You are wrong."
A. I told him how wrong he was.
B. I told him that he was wrong.
C. I said that he was wrong.
D. I told him that he is wrong.
157. He said to me, "You are late".
A. He said to me that you are late
B. He said to me that I was late.
C. He told me that I was late.
D. He told me that you were late
158. The teacher said, 'Be quiet and listen to my words'.
A. The teacher said to stop talking and listen to her words.
B. The students were told be quiet and listen to her words.
C. The teacher asked the students to be quiet and listen to her words,
D. The teacher shouted students listen to my words and be quiet.
159. He said that the book was very interesting.
A. He said, "This book is very interesting."
B. He said, "This book has been very interesting."
C. He said, "This honk had been very interesting."
D. He said, "This book would be very interesting."

160. She said to him, "I have bought a new car."
A. She told him that she would buy a new car.
B. She told him that a new car has been bought by her.
C. She told him that she had bought a new car
D. She told him that she has bought a new car
161. "I love chocolate," said Angeline.
A. Angeline said that she loves chocolate.
B. Angeline said that she loved chocolate.
C. Angeline said she loves chocolate,
D. Angeline says sbe loved chocolate.
162. "Do you know that man r Ravi asked his friend?
A. Ravi asked his friend he knew or not that man.
B. Ravi ask his friend if he knows that man.
C. Ravi asked his friend whether he knew that man.
D. Ravi asked his friend whether he knows that man.
163. I asked him whether he had not promised to come.
A. I asked him, "Did you come? You promise."
B. I said to him, "Did you not promise to come?"
C. I said to him, "Do you not promise to come?"
D. I said, "Did I ask you, not to come?"
164. Rahul said, "What have you been searching for all these hours?"
A. Rahul asked me what I was searching for all these days.
B. Rahul asked me what I had been searching for all those hours.
C. Rabid asked what I have been searching for all those hours.
D. Rahul said that what you had been searching for all these hours.
165. He said to the children, "Come to the park with me"
A. Ho invited the children to come to the park with me.
B. invited the children to come to the park with him.
C. I invited the children to come to the park with me.
D. I invited the children te come to the park with us.

Direction: In the following passage, there are blanks, each of which has been numbered. These numbers are printed below the passage and against each, four words are suggested, one of which fits the blank appropriately. Find out the appropriate word in each case.

Passage

How old is the Earth? This is a (###Q166###) to which we may never have the exact (###Q167###). Man has (###Q168###) about the age of the Earth since (###Q169###) times, and there were all kinds of myths and (###Q170###) that seemed to have the answer. When it was proven that the Earth (###Q171###) around the Sun, (###Q172###) then knew where to begin. To find the (###Q173###) of the Earth, it was necessary to (###Q174###) how the solar system was (###Q175###).

166. Find out the appropriate word in each case.
A. point B. question
C. debate D. fact
167. Find out the appropriate word in each case.
A. reason B. logic
C. answer D. deduction
168. Find out the appropriate word in each case.
A. wondered B. marvelled
C. thought D. asked
169. Find out the appropriate word in each case.
A. antiquated B. legends
C. olden D. story
170. Find out the appropriate word in each case.
A. tale B. legends
C. fables D. story
171. Find out the appropriate word in each case.
A. circled B. rotated
C. moved D. revolved
172. Find out the appropriate word in each case.
A. scientists B. scholars
C. academicians D. students
173. Find out the appropriate word in each case.
A. years B. age
C. date D. oldness
174. Find out the appropriate word in each case.
A. tell B. narrate
C. recount D. explain
175. Find out the appropriate word in each case.
A. born B. originated
C. formed D. begun

Direction: In the following passage, there are blanks, each of which has been numbered. These numbers are printed below the passage and against each, four words are suggested, one of which fits the blank appropriately. Find out the appropriate word in each case.

Passage

One thing we can do is (###Q176###) a good book. Another is to look at a new (###Q177###) conducted William Mercer, one of the world's largest Human Resources consultancies. Mercer decided (###Q178###) some of the world's great cities. They produced their results by giving (###Q179###) for (###Q180###) criteria. These included political, economic and social environment, healthcare, educational Provision, recreation and transport (###Q181###). So, which are the best cities to live in, and which should we (###Q182###)? In (###Q183###) first place were Vancouver, Berne, Vienna and Zurich, while Sydney, Geneva' Auckland and Copenhagen came in second. Swiss cities (###Q184###) three of the top ton places, making it the single most successful country of all those (###Q185###).

- 176. Find out the appropriate word in each case.
A. look B. read
C. obtain D. retrieve
- 177. Find out the appropriate word in each case.
A. survey B. research
C. consultation D. advice
- 178. Find out the appropriate word in each case.
A. proclaim B. decide
C. judge D. rule
- 179. Find out the appropriate word in each case.
A. signs B. spots
C. marks D. places
- 180. Find out the appropriate word in each case.
A. various B. ranging
C. assorted D. different
- 181. Find out the appropriate word in each case.
A. ways B. reasons
C. facilities D. versions
- 182. Find out the appropriate word in each case.
A. escape B. deny
C. regret D. avoid
- 183. Find out the appropriate word in each case.
A. joint B. dual
C. united D. together

- 184. Find out the appropriate word in each case.
A. occupied B. controlled
C. absorbed D. vacated
- 185. Find out the appropriate word in each case.
A. created B. surveyed
C. experimented D. established

Direction: Read the given passage carefully and answer the question that follow.

The Louden Eye is a giant Ferris wheel situated on the banks of the River Thames in London, England. The entire structure is 135 metres (443 ft) tall and the wheel has a diameter of 120 metres (394 ft).

It is the tallest Ferris wheel in Europe, and the most popular paid tourist attraction in the United Kingdom, visited by over 3.5 million people annually. When erected in 1999 it was the tallest Ferris wheel in the world, until surpassed first by the 160 metres (520 ft) Star of Nanchang in 2006 and then the 165 metres (541 ft) Singapore Flyer in 2008. Supported by an A-frame on one side only, unlike the taller Nanchang and Singapore wheels, the Eye is described by its operators as "the world's tallest cantilevered observation wheel". It provides the highest public viewing point, and is the 20th tallest structure, in London.

The London Eye, or Millennium Wheel, was officially called the British Airways London Eye and then the Merlin Entertainments London Eye. Since 26 January 2011, its official name is the EDF Energy London Eye following a three-year sponsorship deal. The London Eye adjoins the western end of Jubilee Gardens, on the of the River Thames between Westminster Bridge and Hungerford Bridge, in the London Borough of Lambeth. The site is adjacent to that of the former Dome of Discovery, which was built for the Festival of Britain in 1951.

- 186. The tallest Ferris wheel in the
A. Star of Nanchang
B. Singapore Flyer
C. Dome of Discovery
D. London Eye
- 187. The London Eye is situated at the banks of
A. Westminster Bridge
B. Hungerford Bridge
C. The Thames
D. London Borough
- 188. Which of the following does flat mean the same as 'entire'?
A. Complete B. Total
C. Partial D. Whole

189. The highest viewing point is provided by
A. Westminster Bridge
B. Hungerford Bridge
C. Dome of Discovery
D. Millennium Wheel
190. The structure built for the Festival of Britain in 1951 was
A. Millennium Wheel
B. London Eye
C. Dome of Discovery
D. Jubilee Gardens

Direction: Read the given passage carefully and answer the question that follow.

Not all that glitters is gold. Not all that is White is milk. Not all people who wear saffron clothes are sages. These age-old sayings hold true event new, especially the last one. We see a lot of People wearing saffron clothes, but not all of them are sanuyasis in the true sense of the word. A sanyasi is one who guides his followers on the right path. Recently, I attended the inaugural functional a home for destitute women in Mysore. In most cases, the women were there because they were, either harassed by their in-laws or tortured by drinking husband. Owing to their social economic conditions, even the parents of the victims were, unable to take them in and care for their hapless children, There had also been instances whit young girls, lured by romance, had run away from their homes and had berm deserted by their lover, after the honeymoon. These girls usually did not dare return to their parents. The saying that `success has many fathers, but failure has none' is true indeed. We get to see only the distressed women and their children, while the main cause of their problems remains hidden in the background. So the victims cannot be blamed altogether. Often it is circumstances that force them into such drudgery. These women and girls need to be psychologically strong and determined to faro difficulties with courage and go on with the' lives.

191. The opening sentence "Not all that glitters is gold" means
A. All metals that shine must necessarily Is as good as gold
B. One must not be deceived by appearances
C. Only gold has that unmistakable shine
D. Glitter is the true quality of truth
192. Wearing saffron clothes does not make one sanyasi, is another way of saying

- A. Saffron must only be worn by true ascetics
B. Saffron is not the favorite colour of the sanyasis
C. Saffron must be changed to some other colour
D. Anybody who wears saffron is a sanyasis
193. Owing to their social economic conditions, even the parents of the victims were, unable to help them because
A. They were financially self-sufficient
B. Society considered them to be backward
C. Their social and economic situation did not allow them to do so
D. They could afford to but were reluctant
194. Success has many fathers but failure has none means
A. Success has only fathers but no mothers
B. Failure has many mothers but no fathers
C. Success comes naturally to men not women
D. No one owns up to failure
195. The main reason for the main cause of their problems remaining hidden is
A. Nobody has bothered to find out the real cause
B. People are waiting for it to come out in the open
C. People don't want to be bothered with others' problems
D. Nobody has tried to expose it


Direction: Read the given passage carefully and answer the question that follow.

The heart is one of the most vital components of the human body. The heart of the human body has the continuous job to keep oxygen-rich blood flowing the body. All the body's cells need a constant supply of oxygen, particularly in the brain. The brain cells live only four to five minutes after the oxygen is cut off and death comes to the entire body. Heart disease can result from damage to the heart muscles, the valves or the pacemaker. If the muscle is damaged, the heart is unable to pump properly. If the values are damaged, blood cannot flow normally. Dr. Johan Gibbon of U.S.A. developed a machine in 1953 that could take over temporarily form the heart. Surgeons had the chance to repair or replace a defective heart. Many patients have had plastic valves inserted in their heart when their heart were faulty. Many people are now being kept alive with tiny battery operated pacemakers.

196. If the supply of oxygen is cut off, the brain Cells survive
A. 4 to 5 minutes B. 9 to 10 minutes
C. for 1.6 minutes D. for an hour
197. The heart sends oxygen-rich blood
A. to the brain only
B. to the kidneys only
C. to the entire body
D. to the lungs only
198. Dr. John Gibbon of U.S.A. developed an artificial heart in
A. 1955 B. 1953
C. 1960 D. 1960
199. Heart diseases occur from
A. Damage to the heart muscles
B. Coronium
C. Pericardium
D. Heart cells
200. All the body's cells need a constant supply of
A. Nitrogen B. Hydrogen
C. Helium D. Oxygen

ANSWER KEY

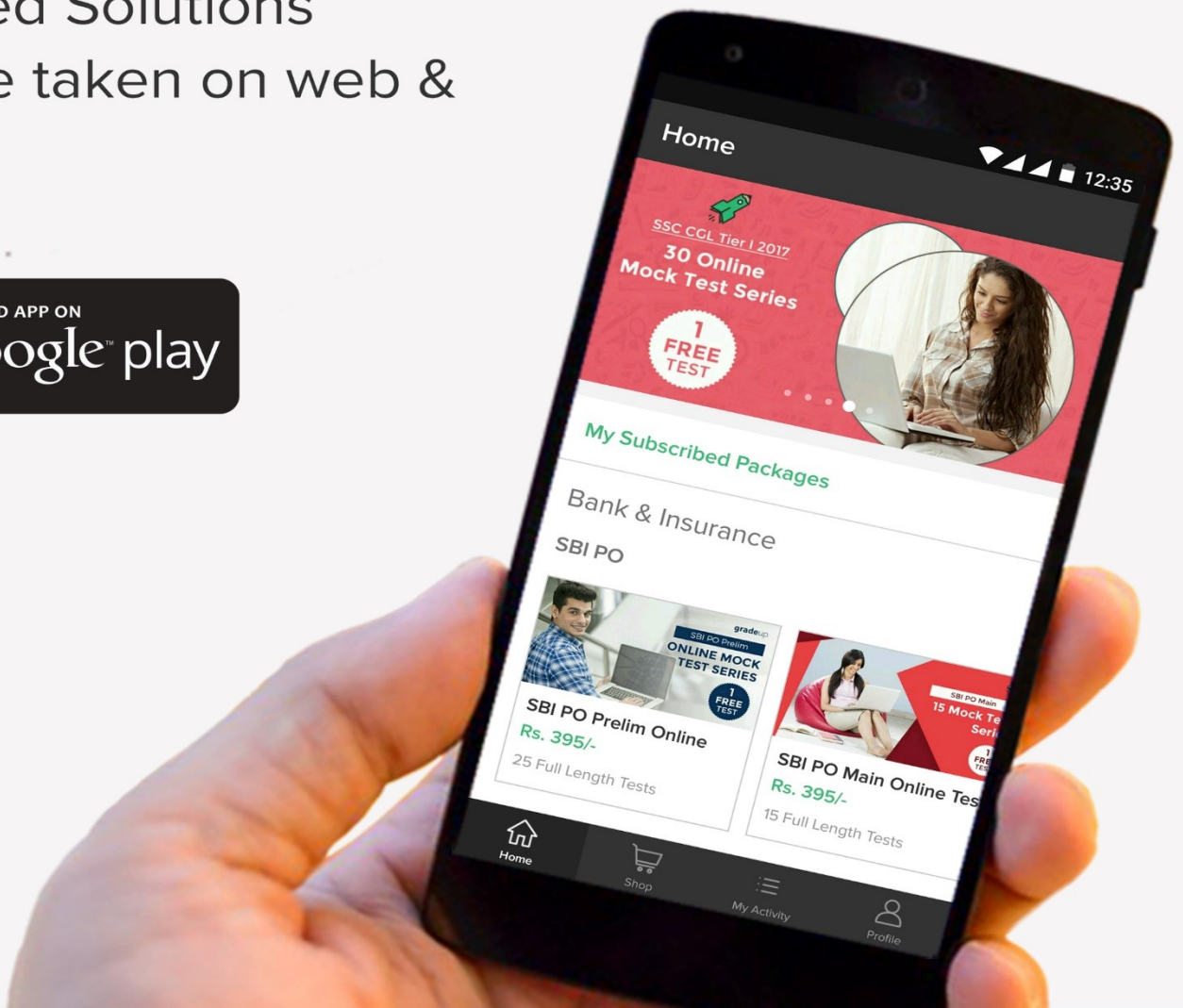
- | | | | | |
|-------------|-------------|--------------|--------------|--------------|
| 1. Ans. A. | 41. Ans. C. | 81. Ans. A. | 121. Ans. B. | 161. Ans. B. |
| 2. Ans. D. | 42. Ans. D. | 82. Ans. B. | 122. Ans. C. | 162. Ans. C. |
| 3. Ans. D. | 43. Ans. D. | 83. Ans. C. | 123. Ans. D. | 163. Ans. B. |
| 4. Ans. D. | 44. Ans. B. | 84. Ans. B. | 124. Ans. B. | 164. Ans. B. |
| 5. Ans. A. | 45. Ans. D. | 85. Ans. A. | 125. Ans. C. | 165. Ans. A. |
| 6. Ans. C. | 46. Ans. B. | 86. Ans. D. | 126. Ans. B. | 166. Ans. B. |
| 7. Ans. A. | 47. Ans. C. | 87. Ans. D. | 127. Ans. A. | 167. Ans. C. |
| 8. Ans. D. | 48. Ans. B. | 88. Ans. C. | 128. Ans. B. | 168. Ans. A. |
| 9. Ans. C. | 49. Ans. B. | 89. Ans. A. | 129. Ans. B. | 169. Ans. C. |
| 10. Ans. D. | 50. Ans. C. | 90. Ans. A. | 130. Ans. C. | 170. Ans. B. |
| 11. Ans. B. | 51. Ans. D. | 91. Ans. B. | 131. Ans. A. | 171. Ans. D. |
| 12. Ans. B. | 52. Ans. B. | 92. Ans. B. | 132. Ans. B. | 172. Ans. B. |
| 13. Ans. C. | 53. Ans. D. | 93. Ans. A. | 133. Ans. C. | 173. Ans. B. |
| 14. Ans. B. | 54. Ans. D. | 94. Ans. B. | 134. Ans. D. | 174. Ans. D. |
| 15. Ans. D. | 55. Ans. C. | 95. Ans. A. | 135. Ans. B. | 175. Ans. C. |
| 16. Ans. C. | 56. Ans. A. | 96. Ans. B. | 136. Ans. B. | 176. Ans. B. |
| 17. Ans. C. | 57. Ans. A. | 97. Ans. B. | 137. Ans. A. | 177. Ans. A. |
| 18. Ans. C. | 58. Ans. B. | 98. Ans. B. | 138. Ans. B. | 178. Ans. A. |
| 19. Ans. A. | 59. Ans. D. | 99. Ans. A. | 139. Ans. B. | 179. Ans. C. |
| 20. Ans. B. | 60. Ans. B. | 100. Ans. A. | 140. Ans. C. | 180. Ans. D. |
| 21. Ans. B. | 61. Ans. B. | 101. Ans. C. | 141. Ans. A. | 181. Ans. C. |
| 22. Ans. B. | 62. Ans. C. | 102. Ans. A. | 142. Ans. B. | 182. Ans. D. |
| 23. Ans. D. | 63. Ans. A. | 103. Ans. A. | 143. Ans. C. | 183. Ans. A. |
| 24. Ans. C. | 64. Ans. B. | 104. Ans. D. | 144. Ans. A. | 184. Ans. A. |
| 25. Ans. D. | 65. Ans. C. | 105. Ans. C. | 145. Ans. D. | 185. Ans. B. |
| 26. Ans. D. | 66. Ans. B. | 106. Ans. C. | 146. Ans. D. | 186. Ans. B. |
| 27. Ans. C. | 67. Ans. A. | 107. Ans. B. | 147. Ans. A. | 187. Ans. C. |
| 28. Ans. A. | 68. Ans. C. | 108. Ans. B. | 148. Ans. A. | 188. Ans. D. |
| 29. Ans. A. | 69. Ans. C. | 109. Ans. B. | 149. Ans. C. | 189. Ans. D. |
| 30. Ans. D. | 70. Ans. B. | 110. Ans. C. | 150. Ans. B. | 190. Ans. C. |
| 31. Ans. C. | 71. Ans. C. | 111. Ans. B. | 151. Ans. C. | 191. Ans. B. |
| 32. Ans. D. | 72. Ans. A. | 112. Ans. A. | 152. Ans. C. | 192. Ans. A. |
| 33. Ans. A. | 73. Ans. B. | 113. Ans. C. | 153. Ans. C. | 193. Ans. C. |
| 34. Ans. A. | 74. Ans. A. | 114. Ans. B. | 154. Ans. C. | 194. Ans. D. |
| 35. Ans. C. | 75. Ans. D. | 115. Ans. B. | 155. Ans. D. | 195. Ans. A. |
| 36. Ans. B. | 76. Ans. A. | 116. Ans. C. | 156. Ans. B. | 196. Ans. A. |
| 37. Ans. D. | 77. Ans. A. | 117. Ans. D. | 157. Ans. C. | 197. Ans. C. |
| 38. Ans. C. | 78. Ans. B. | 118. Ans. B. | 158. Ans. C. | 198. Ans. B. |
| 39. Ans. A. | 79. Ans. A. | 119. Ans. C. | 159. Ans. A. | 199. Ans. A. |
| 40. Ans. A. | 80. Ans. A. | 120. Ans. D. | 160. Ans. C. | 200. Ans. D. |



gradeup

Banking & SSC Online Mock Test Series

- Based on Latest Exam Pattern
- Available in Hindi & English
- Get all India rank & result analysis
- Detailed Solutions
- Can be taken on web & mobile



www.gradeup.co